

Name	Klasse	Datum
------	--------	-------

PUNKTE

1

1 Suche in der Kartenübersicht **Erde (nach Kontinenten): physische Karten** eine Karte, auf der Indien vollständig abgebildet ist. Auf welchen Atlasseiten befindet sich diese Karte?

Auf den Seiten bis .

PUNKTE

2

2 Suche im Register Lima.

a Trage die Seite und das dazugehörige Planquadrat ein.

Seite Planquadrat

b Kreuze die richtige Aussage an.

Lima ist ein Berg. Lima ist eine Stadt. Lima ist ein Fluss.

PUNKTE

2

3 In welchem Atlaskapitel befinden sich Karten von Neuseeland und welche Farbe hat die Griffleiste? Kreuze an.


Ozeanien Südamerika Asien
 rot braun grün

PUNKTE

2

4 Unterscheide Schräg- und Senkrechtluftbilder.

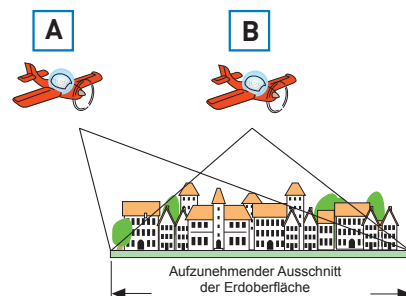
a Ordne folgende Begriffe den Bildern zu: Schrägluftbild, Senkrechtluftbild.



b Kreuze an, aus welchem Flugzeug das Senkrechtluftbild aufgenommen wurde.

Flugzeug **A**

Flugzeug **B**

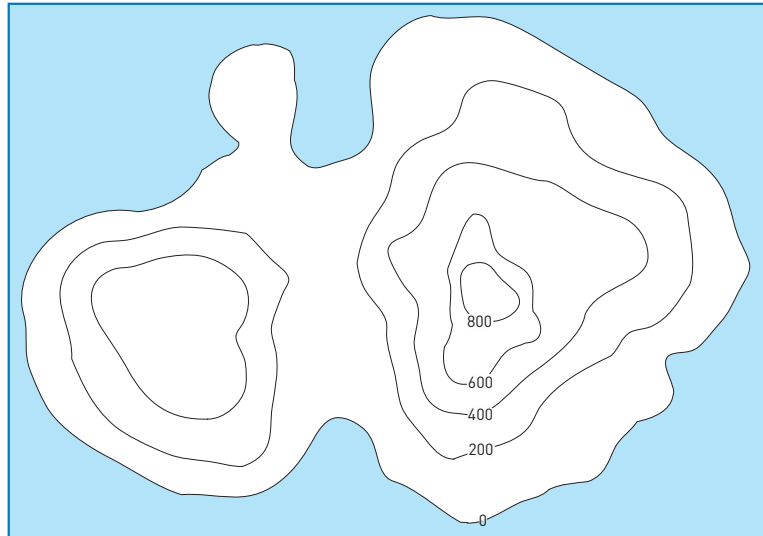


PUNKTE

2

5 Lege die Farben für die Höhenschichten der Legende fest. Male die Höhenschichten mit den entsprechenden Farben an.

Landhöhen	
<input type="text"/>	über 800 m
<input type="text"/>	600 – 800 m
<input type="text"/>	400 – 600 m
<input type="text"/>	200 – 400 m
<input type="text"/>	0 – 200 m



PUNKTE

2

6 Schlage die Atlasseite 114 auf. Die Karte **Mitteleuropa – physisch** hat den Maßstab 1:6 000 000. Miss in dieser Karte den Abstand zwischen Berlin und Frankfurt/Main und berechne die Strecke in km.

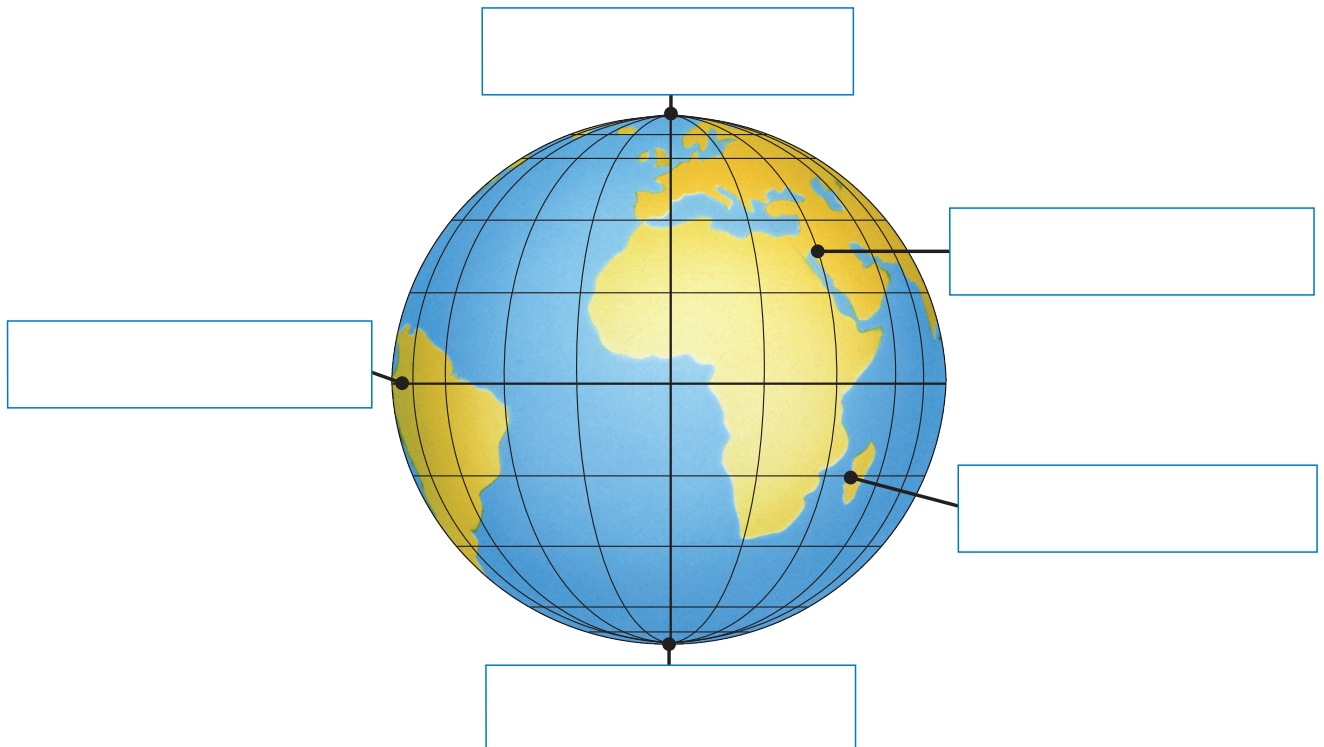
cm in der Karte sind

km in der Wirklichkeit.

PUNKTE

5

7 Beschrifte den Globus mit den Begriffen: Äquator, Nordpol, Südpol, Breitengrad, Längengrad.



PUNKTE

2

8 Suche im Inhaltsverzeichnis die Karte **Afrika – physische Übersicht**.

a Auf welchen Seiten befindet sich diese Karte?

Auf den Seiten bis .

b Ergänze den Satz.

Der höchste Berg Afrikas befindet sich

im Gradfeld

und heißt . Er ist 5895 m hoch.

PUNKTE

6

9 Welche Bedeutungen haben die Signaturen (A-C) und welche Produkte gehören dazu? Ordne die Buchstaben den Zeichenerklärungen und den Produkten zu. Die Karte **Deutschland –Wirtschaft** hilft dir dabei.

Signatur:

Zeichenerklärung:

Produkte:



Chemie, Kunststoffe

Bagger



Kraftfahrzeugbau

Brille



Feinmechanik, Optik, Uhren

Waschmittel

PUNKTE

4

10 Suche eine Karte, die dir zeigt, welche Länder westlich an Deutschland grenzen. Schreibe diese Länder in die Kästchen.

PUNKTE

1

11 Nenne den Kartentyp, auf dem du folgende Informationen finden kannst:
Hafen, Wein und Staatsgrenze.

PUNKTE

3

12 Vergleiche die Karte **Europa nach dem zweiten Weltkrieg** auf der Atlasseite 92 mit der Karte **Politische Übersicht** Europas auf Seite 93. Notiere die Namen von 3 Ländern, die es heute nicht mehr gibt.

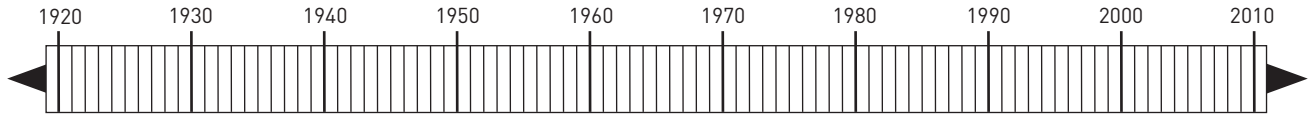
PUNKTE

2

13 Ordne die Karte **Europa nach dem zweiten Weltkrieg** und die Karte **Politische Übersicht** des heutigen Europas dem passenden Zeitabschnitt in diesem Zeitstrahl zu. Lege für die beiden Karten jeweils eine Farbe fest und male damit den entsprechenden Zeitabschnitt im Zeitstrahl aus.

Europa nach dem zweiten Weltkrieg

Politische Übersicht Europas



PUNKTE

6

14 Ordne die Kontinente (1-6) den Abbildungen zu.

1 Nordamerika

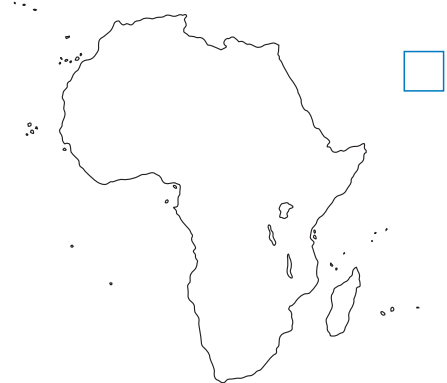
2 Südamerika

3 Europa

4 Afrika

5 Australien

6 Asien



PUNKTE
GESAMT

40

Datum

Unterschrift